

ಒಟ್ಟು ಮುದ್ರಿತ ಪುಟಗಳ ಸಂಖ್ಯೆ : 12]

Total No. of Printed Pages : 12]

ಒಟ್ಟು ಪ್ರಶ್ನೆಗಳ ಸಂಖ್ಯೆ : 38]

Total No. of Questions : 38]

ಸಂಕೇತ ಸಂಖ್ಯೆ : **81-K**

Code No. : **81-K**

A

**CCE RF
CCE RR
REVISED**

Question Paper Serial No. **21**

ಇಲ್ಲಿಂದ ಕತ್ತರಿಸಿ

ವಿಷಯ : **ಗಣಿತ**

Subject : MATHEMATICS

(ಕನ್ನಡ ಭಾಷಾಂತರ / **Kannada Version**)

(ಹೊಸ ಪಠ್ಯಕ್ರಮ / **New Syllabus**)

(ಶಾಲಾ ಅಭ್ಯರ್ಥಿ & ಪುನರಾವರ್ತಿತ ಶಾಲಾ ಅಭ್ಯರ್ಥಿ / **Regular Fresh & Regular Repeater**)

ದಿನಾಂಕ : 07. 04. 2020]

[Date : 07. 04. 2020

ಸಮಯ : ಬೆಳಿಗ್ಗೆ 9-30 ರಿಂದ ಮಧ್ಯಾಹ್ನ 12-45 ರವರೆಗೆ]

[Time : 9-30 A.M. to 12-45 P.M.

ಗರಿಷ್ಠ ಅಂಕಗಳು : 80]

[Max. Marks : 80

ಪರೀಕ್ಷಾರ್ಥಿಗಾಗಿ ಸಾಮಾನ್ಯ ಸೂಚನೆಗಳು :

1. ಈ ಪ್ರಶ್ನೆಪತ್ರಿಕೆಯು 38 ವಸ್ತುನಿಷ್ಠ ಮತ್ತು ವಿಷಯನಿಷ್ಠ ಮಾದರಿಯ ಪ್ರಶ್ನೆಗಳನ್ನು ಹೊಂದಿದೆ.
2. ಈ ಪ್ರಶ್ನೆಪತ್ರಿಕೆಯನ್ನು ಹಿಮ್ಮುಖ ಜಾಕೆಟ್ ಮೂಲಕ ಮೊಹರು (ಸೀಲ್) ಮಾಡಲಾಗಿದೆ. ಪರೀಕ್ಷೆ ಪ್ರಾರಂಭವಾಗುವ ಸಮಯಕ್ಕೆ ನಿಮ್ಮ ಪ್ರಶ್ನೆಪತ್ರಿಕೆಯ ಬಲಬದಿ ಪಾರ್ಶ್ವವನ್ನು ಕತ್ತರಿಸಿ, ಪ್ರಶ್ನೆಪತ್ರಿಕೆಯಲ್ಲಿ ಎಲ್ಲಾ ಪುಟಗಳು ಇವೆಯೇ ಎಂದು ಪರೀಕ್ಷಿಸಿಕೊಳ್ಳಿ.
3. ವಸ್ತುನಿಷ್ಠ ಮತ್ತು ವಿಷಯನಿಷ್ಠ ಮಾದರಿಯ ಪ್ರಶ್ನೆಗಳಿಗೆ ಕೊಟ್ಟಿರುವ ಸೂಚನೆಗಳನ್ನು ಪಾಲಿಸಿ.
4. ಬಲ ಭಾಗದಲ್ಲಿ ಕೊಟ್ಟಿರುವ ಅಂಕಗಳು ಪ್ರಶ್ನೆಗಳಿಗಿರುವ ಪೂರ್ಣ ಅಂಕಗಳನ್ನು ತೋರಿಸುತ್ತದೆ.
5. ಪ್ರಶ್ನೆಪತ್ರಿಕೆಯನ್ನು ಓದಿಕೊಳ್ಳಲು 15 ನಿಮಿಷಗಳ ಕಾಲಾವಕಾಶವು ಸೇರಿದಂತೆ, ಉತ್ತರಿಸಲು ನಿಗದಿಪಡಿಸಲಾದ ಸಮಯವನ್ನು ಪ್ರಶ್ನೆಪತ್ರಿಕೆಯ ಮೇಲ್ಭಾಗದಲ್ಲಿ ನೀಡಲಾಗಿದೆ.


TEAR HERE TO OPEN THE QUESTION PAPER
ಪ್ರಶ್ನೆಪತ್ರಿಕೆಯನ್ನು ತೆರೆಯಲು ಇಲ್ಲಿ ಕತ್ತರಿಸಿ


Tear here




- I. ಈ ಕೆಳಗಿನ ಪ್ರಶ್ನೆಗಳಿಗೆ ಅಥವಾ ಅಪೂರ್ಣ ಹೇಳಿಕೆಗಳಿಗೆ ನಾಲ್ಕು ಪರ್ಯಾಯ ಉತ್ತರಗಳನ್ನು ನೀಡಲಾಗಿದೆ. ಅವುಗಳಲ್ಲಿ ಸೂಕ್ತವಾದ ಉತ್ತರವನ್ನು ಆರಿಸಿ, ಕ್ರಮಾಕ್ಷರದೊಡನೆ ಪೂರ್ಣ ಉತ್ತರವನ್ನು ಬರೆಯಿರಿ :

8 × 1 = 8

1. $a_1x + b_1y + c_1 = 0$ ಮತ್ತು $a_2x + b_2y + c_2 = 0$ ಜೋಡಿ ರೇಖಾತ್ಮಕ ಸಮೀಕರಣಗಳಲ್ಲಿ $\frac{a_1}{a_2} \neq \frac{b_1}{b_2}$ ಆದರೆ, 

(A) ಸಮೀಕರಣಗಳಿಗೆ ಪರಿಹಾರಗಳು ಇರುವುದಿಲ್ಲ 

(B) ಸಮೀಕರಣಗಳು ಅನನ್ಯ ಪರಿಹಾರವನ್ನು ಹೊಂದಿರುತ್ತವೆ

(C) ಸಮೀಕರಣಗಳು ಮೂರು ಪರಿಹಾರಗಳನ್ನು ಹೊಂದಿರುತ್ತವೆ 


(D) ಸಮೀಕರಣಗಳು ಅಪರಿಮಿತ ಸಂಖ್ಯೆಯ ಪರಿಹಾರಗಳನ್ನು ಹೊಂದಿರುತ್ತವೆ

2. ಒಂದು ಸಮಾಂತರ ಶ್ರೇಣಿಯಲ್ಲಿ $a_n = 2n + 1$ ಆದಾಗ ಆ ಶ್ರೇಣಿಯ ಸಾಮಾನ್ಯ ವ್ಯತ್ಯಾಸವು


(A) 0  (B) 1 

(C) 2 (D) 3 

3. ರೇಖಾತ್ಮಕ ಸಮೀಕರಣದ ಡಿಗ್ರಿ (ಮಹತ್ತಮ ಘಾತ)

(A) 0 (B) 1 

(C) 2 (D) 3 

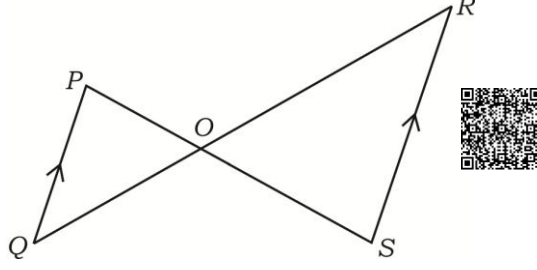
4. $13 \sin \theta = 12$ ಆದರೆ $\operatorname{cosec} \theta$ ನ ಬೆಲೆ 

(A) $\frac{12}{5}$  (B) $\frac{13}{5}$

(C) $\frac{12}{13}$ (D) $\frac{13}{12}$



5. ಚಿತ್ರದಲ್ಲಿ $\Delta POQ \sim \Delta SOR$ ಮತ್ತು $PQ : RS = 1 : 2$ ಆದರೆ, $OP : OS$



- (A) 1 : 2 (B) 2 : 1
(C) 3 : 1 (D) 1 : 3



6. ಒಂದು ಸರಳರೇಖೆಯು ವೃತ್ತದ ಒಂದೇ ಒಂದು ಬಿಂದುವಿನಲ್ಲಿ ಹಾದು ಹೋದರೆ ಆ ರೇಖೆಯು



- (A) ವೃತ್ತ ಸ್ಪರ್ಶಕ

- (B) ವೃತ್ತ ಛೇದಕ

- (C) ತ್ರಿಜ್ಯ



- (D) ಛೇದಕ

7. ತ್ರಿಜ್ಯ 'r' ಆಗಿರುವ ಒಂದು ವೃತ್ತದಲ್ಲಿ θ ಕೋನವನ್ನು ಹೊಂದಿರುವ ತ್ರಿಜ್ಯಾಂತರ ಖಂಡದ ಕಂಸದ

ಉದ್ದ



- (A) $\frac{\theta}{360^\circ} \times \pi r^2$



- (B) $\frac{\theta}{360^\circ} \times 2\pi r^2$

- (C) $\frac{\theta}{180^\circ} \times 2\pi r$



- (D) $\frac{\theta}{360^\circ} \times 2\pi r$



8. ಒಂದು ವೃತ್ತಾಕಾರದ ಸಿಲಿಂಡರಿನ ಪಾದದ ವಿಸ್ತೀರ್ಣ 22 cm^2 ಮತ್ತು ಅದರ ಎತ್ತರ 10 ಸೆ.ಮೀ. ಆದಾಗ ಆ ಸಿಲಿಂಡರಿನ ಘನಫಲ



- (A) 2200 cm^2 (B) 2200 cm^3
 (C) 220 cm^3 (D) 220 cm^2



- II. ಈ ಕೆಳಗಿನ ಪ್ರಶ್ನೆಗಳಿಗೆ ಉತ್ತರಿಸಿ :

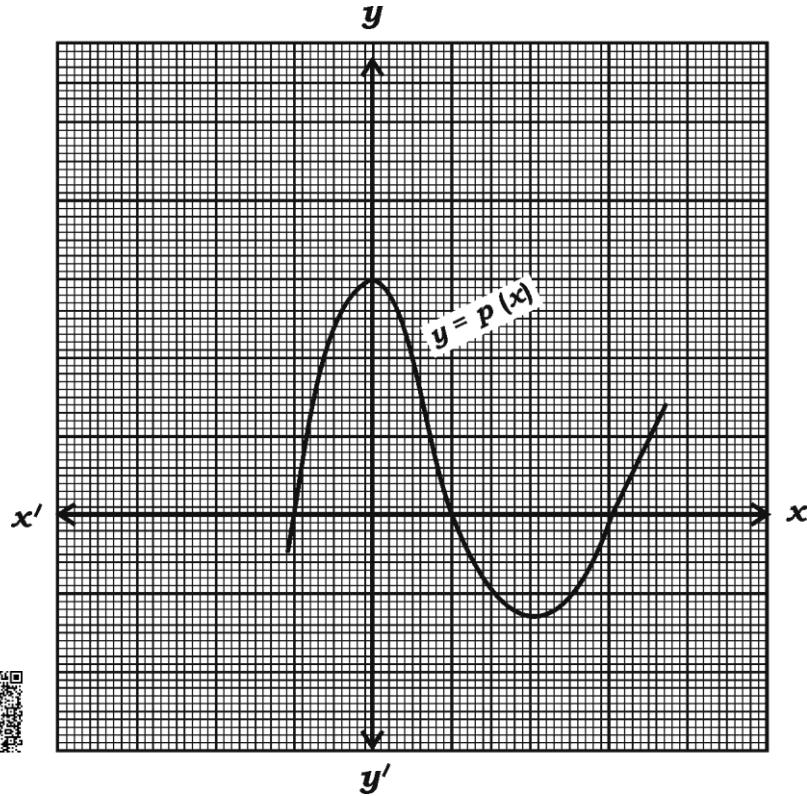


$8 \times 1 = 8$

9. $\frac{23}{20}$ ಭಿನ್ನರಾಶಿಯ ಭೇದವನ್ನು $2^n \times 5^m$ ರೂಪಕ್ಕೆ ತಂದು, ಈ ಭಿನ್ನರಾಶಿಯು ಅಂತ್ಯಗೊಳ್ಳುವ ಅಥವಾ ಅಂತ್ಯಗೊಳ್ಳದ ಅವರ್ತವಾಗುವ ದಶಮಾಂಶ ವಿಸ್ತರಣೆ ಹೊಂದಿದೆಯೇ ಬರೆಯಿರಿ.



10. ಕೊಟ್ಟಿರುವ ನಕ್ಷೆಯು $y = p(x)$ ಬಹುಪದೋಕ್ತಿಯನ್ನು ಸೂಚಿಸುತ್ತದೆ. $p(x)$ ಹೊಂದಿರುವ ಶೂನ್ಯತೆಗಳ ಸಂಖ್ಯೆ ಬರೆಯಿರಿ.



11. $\tan 45^\circ + \cot 45^\circ$ ನ ಬೆಲೆಯನ್ನು ಕಂಡುಹಿಡಿಯಿರಿ.



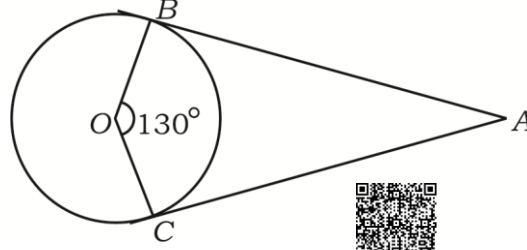
12. (x_1, y_1) ಮತ್ತು (x_2, y_2) ಈ ಬಿಂದುಗಳನ್ನು ಸೇರಿಸುವ ರೇಖಾಖಂಡದ ಮಧ್ಯಬಿಂದುವಿನ ನಿರ್ದೇಶಾಂಕಗಳನ್ನು ಕಂಡುಹಿಡಿಯಿರಿ.



13. “ಮೂಲ ಸಮಾನುಪಾತತೆಯ ಪ್ರಮೇಯ”ವನ್ನು ನಿರೂಪಿಸಿ.



14. ಚಿತ್ರದಲ್ಲಿ AB ಮತ್ತು AC ಗಳು O ಕೇಂದ್ರವಿರುವ ವೃತ್ತಕ್ಕೆ A ಬಿಂದುವಿನಿಂದ ಎಳೆದ ಎರಡು ಸ್ಪರ್ಶಕಗಳು. $\angle BOC = 130^\circ$ ಆದರೆ, $\angle BAC$ ಯನ್ನು ಕಂಡುಹಿಡಿಯಿರಿ.



15. $\frac{x+1}{2} = \frac{1}{x}$ ನ್ನು ವರ್ಗಸಮೀಕರಣದ ಆದರ್ಶರೂಪದಲ್ಲಿ ಬರೆಯಿರಿ.



16. ತ್ರಿಜ್ಯ 'r' ಮಾನಗಳು ಮತ್ತು ಓರೆ ಎತ್ತರ 'l' ಮಾನಗಳು ಇರುವ ಶಂಕುವಿನ ಪೂರ್ಣ ಮೇಲ್ಮೈ ವಿಸ್ತೀರ್ಣವನ್ನು ಕಂಡುಹಿಡಿಯುವ ಸೂತ್ರವನ್ನು ಬರೆಯಿರಿ.



III. ಈ ಕೆಳಗಿನ ಪ್ರಶ್ನೆಗಳಿಗೆ ಉತ್ತರಿಸಿ :

$8 \times 2 = 16$

17. ಬಿಡಿಸಿ : $2x + y = 11$

$$x + y = 8$$




18. $5 + 8 + 11 + \dots$ 10 ಪದಗಳವರೆಗಿನ ಮೊತ್ತವನ್ನು ಸೂತ್ರ ಉಪಯೋಗಿಸಿ ಕಂಡುಹಿಡಿಯಿರಿ.

19. ರೇಖಾತ್ಮಕ ಸಮೀಕರಣಗಳ ಜೋಡಿಗಳು $2x - 3y = 8$ ಮತ್ತು $2(k - 4)x - ky = k + 3$ ಅಸ್ಥಿರವಾಗಿದ್ದರೆ 'k' ಯ ಬೆಲೆಯನ್ನು ಕಂಡುಹಿಡಿಯಿರಿ.





20. $2x^2 - 5x + 3 = 0$. ಈ ಸಮೀಕರಣದ ಶೋಧಕದ ಬೆಲೆಯನ್ನು ಕಂಡುಹಿಡಿದು ಮೂಲಗಳ ಸ್ವಭಾವವನ್ನು ಬರೆಯಿರಿ.




21. $p(x) = x^2 - 6x + k$. ಈ ಬಹುಪದೋಕ್ತಿಯ ಒಂದು ಶೂನ್ಯತೆಯು ಇನ್ನೊಂದು ಶೂನ್ಯತೆಯ ಎರಡರಷ್ಟು ಆದಾಗ, 'k' ಯ ಬೆಲೆಯನ್ನು ಕಂಡುಹಿಡಿಯಿರಿ. 


ಅಥವಾ


$p(x) = x^3 - 2x^2 + 3x + 4$. ಈ ಬಹುಪದೋಕ್ತಿಯಿಂದ ಕನಿಷ್ಠ ಡಿಗ್ರಿ ಇರುವ ಯಾವ ಬಹುಪದೋಕ್ತಿಯನ್ನು ಕಳೆದಾಗ ಅದು $g(x) = x^2 - 3x + 1$ ರಿಂದ ಪೂರ್ಣವಾಗಿ ಭಾಗವಾಗುತ್ತದೆ. 

22. $(-5, 7)$ ಮತ್ತು $(-1, 3)$ ಈ ಬಿಂದುಗಳ ನಡುವಿನ ದೂರವನ್ನು ಕಂಡುಹಿಡಿಯಿರಿ. 

ಅಥವಾ

$(1, 6)$ ಮತ್ತು $(4, 3)$ ಬಿಂದುಗಳನ್ನು ಸೇರಿಸುವ ರೇಖಾಖಂಡವನ್ನು 1 : 2 ರ ಅನುಪಾತದಲ್ಲಿ ವಿಭಾಗಿಸುವ ಬಿಂದುವಿನ ನಿರ್ದೇಶಾಂಕಗಳನ್ನು ಕಂಡುಹಿಡಿಯಿರಿ. 

23. $A(1, 1)$, $B(3, 2)$ ಮತ್ತು $C(5, 3)$. ಈ ಬಿಂದುಗಳು ತ್ರಿಭುಜ ABC ಯ ಶೃಂಗಬಿಂದುಗಳಾಗಿರಲು ಸಾಧ್ಯವಿಲ್ಲ ಎಂದು ಸಮರ್ಥಿಸಿ. 

24. 3 ಸೆ.ಮೀ. ತ್ರಿಜ್ಯದ ವೃತ್ತಕ್ಕೆ, ಸ್ಪರ್ಶಕಗಳ ನಡುವಿನ ಕೋನ 60° ಇರುವಂತೆ ಒಂದು ಜೊತೆ ಸ್ಪರ್ಶಕಗಳನ್ನು ರಚಿಸಿ. 


IV. ಈ ಕೆಳಗಿನ ಪ್ರಶ್ನೆಗಳಿಗೆ ಉತ್ತರಿಸಿ :


$9 \times 3 = 27$

25. $\sqrt{5}$ ಒಂದು ಅಭಾಗಲಬ್ಧ ಸಂಖ್ಯೆ ಎಂದು ಸಾಧಿಸಿ.



ಅಥವಾ

ಯೂಕ್ಲಿಡ್‌ನ ಭಾಗಾಕಾರ ಕ್ರಮವಿಧಿ ಉಪಯೋಗಿಸಿ 24 ಮತ್ತು 40 ರ ಮ.ಸಾ.ಅ. ಕಂಡುಹಿಡಿಯಿರಿ. ನಂತರ ಮ.ಸಾ.ಅ. (24, 40) ಮತ್ತು 20 ರ ಲ.ಸಾ.ಅ.ವನ್ನು ಕಂಡುಹಿಡಿಯಿರಿ. 

26. ಇಂಧನ ಉಳಿತಾಯ ಮಾಡಲು, ವಾಯುಮಾಲಿನ್ಯ ತಪ್ಪಿಸಲು ಮತ್ತು ಉತ್ತಮ ಆರೋಗ್ಯಕ್ಕಾಗಿ 'A' ಮತ್ತು 'B' ಇಬ್ಬರು ವ್ಯಕ್ತಿಗಳು 12 ಕಿ.ಮೀ. ದೂರದಲ್ಲಿರುವ ತಮ್ಮ ಕಚೇರಿಗೆ ತಲುಪಲು ಸೈಕಲ್ ಓಡಿಸುತ್ತಾರೆ. 'B' ಯ ಸೈಕಲ್ ಓಡಿಸುವ ಸರಾಸರಿ ಜವವು 'A' ಗಿಂತ 2 ಕಿ.ಮೀ./ಗಂಟೆ ಹೆಚ್ಚಾಗಿರುವುದರಿಂದ, 'B' ಯು ಕಚೇರಿಯನ್ನು ತಲುಪಲು 'A' ಗಿಂತ 30 ನಿಮಿಷ ಕಡಿಮೆ ಸಮಯವನ್ನು ತೆಗೆದುಕೊಳ್ಳುವರು. 'A' ಮತ್ತು 'B' ಯು ಕಚೇರಿ ತಲುಪಲು ತೆಗೆದುಕೊಳ್ಳುವ ಸಮಯವನ್ನು ಕಂಡುಹಿಡಿಯಿರಿ. 



27. $x = p \tan \theta + q \sec \theta$ ಮತ್ತು



$y = p \sec \theta + q \tan \theta$ ಆದರೆ,

$x^2 - y^2 = q^2 - p^2$ ಎಂದು ಸಾಧಿಸಿ.



ಅಥವಾ

$\frac{\cot^2 (90^\circ - \theta)}{\tan^2 \theta - 1} + \frac{\operatorname{cosec}^2 \theta}{\sec^2 \theta - \operatorname{cosec}^2 \theta} = \frac{1}{\sin^2 \theta - \cos^2 \theta}$ ಎಂದು ಸಾಧಿಸಿ.

28. ಈ ಕೆಳಗಿನ ದತ್ತಾಂಶಗಳಿಗೆ ಮಧ್ಯಾಂಕವನ್ನು ಕಂಡುಹಿಡಿಯಿರಿ :



ವರ್ಗಾಂತರ	ಆವೃತ್ತಿ
20 — 40	7
40 — 60	15
60 — 80	20
80 — 100	8




ಅಥವಾ

ಈ ಕೆಳಗಿನ ದತ್ತಾಂಶಗಳಿಗೆ ಬಹುಲಕವನ್ನು ಕಂಡುಹಿಡಿಯಿರಿ :





ವರ್ಗಾಂತರ	ಆವೃತ್ತಿ
1 — 3	6
3 — 5	9
5 — 7	15
7 — 9	9
9 — 11	1




29. ಈ ಕೆಳಗಿನ ಕೋಷ್ಟಕದಲ್ಲಿ ಒಂದು ಕಾರ್ಖಾನೆಯ 50 ಕೆಲಸಗಾರರ ದೈನಂದಿನ ಆದಾಯದ ಮಾಹಿತಿಯನ್ನು ನೀಡಲಾಗಿದೆ. ಈ ದತ್ತಾಂಶಗಳಿಗೆ ಕಡಿಮೆ ವಿಧಾನದ ಓಜೀವ್ ರಚಿಸಿರಿ. 


ದೈನಂದಿನ ಆದಾಯ	ಕೆಲಸಗಾರರ ಸಂಖ್ಯೆ
100 ಕ್ಕಿಂತ ಕಡಿಮೆ	0
120 ಕ್ಕಿಂತ ಕಡಿಮೆ	8
140 ಕ್ಕಿಂತ ಕಡಿಮೆ	20
160 ಕ್ಕಿಂತ ಕಡಿಮೆ	34
180 ಕ್ಕಿಂತ ಕಡಿಮೆ	44
200 ಕ್ಕಿಂತ ಕಡಿಮೆ	50

30. ಒಂದು ಚೀಲದಲ್ಲಿ 3 ಕೆಂಪು ಚೆಂಡುಗಳು, 5 ಬಿಳಿ ಚೆಂಡುಗಳು ಮತ್ತು 8 ನೀಲಿ ಚೆಂಡುಗಳಿವೆ. ಚೀಲದಿಂದ ಯಾದೃಚ್ಛಿಕವಾಗಿ ಒಂದು ಚೆಂಡನ್ನು ಹೊರತೆಗೆಯಲಾಗಿದೆ. ಆ ಚೆಂಡು 

a) ಒಂದು ಕೆಂಪು ಚೆಂಡು ಆಗಿರುವ, 

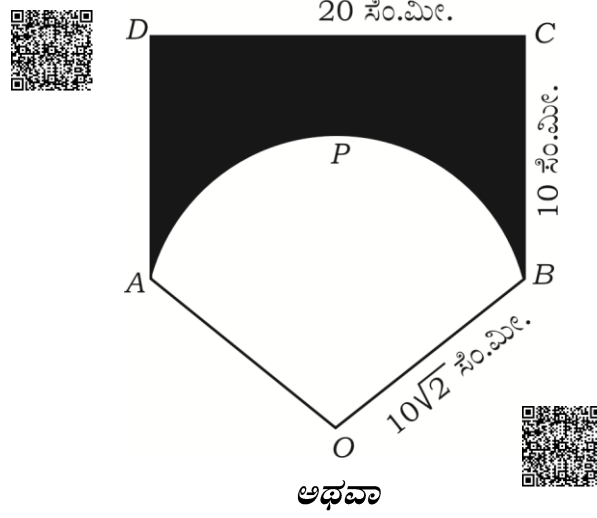
b) ಬಿಳಿ ಚೆಂಡು ಆಗಿರದ. ಸಂಭವನೀಯತೆಯನ್ನು ಕಂಡುಹಿಡಿಯಿರಿ. 

31. “ಬಾಹ್ಯ ಬಿಂದುವಿನಿಂದ ವೃತ್ತಕ್ಕೆ ಎಳೆದ ಸ್ಪರ್ಶಕಗಳ ಉದ್ದವು ಸಮನಾಗಿರುತ್ತದೆ” ಎಂದು ಸಾಧಿಸಿ.

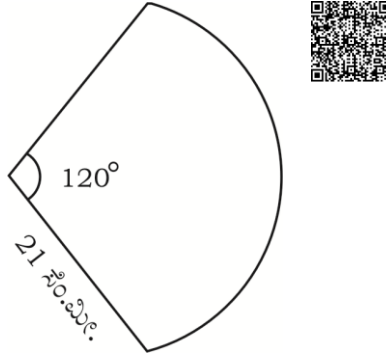
32. $BC = 3$ ಸೆ.ಮೀ., $AB = 6$ ಸೆ.ಮೀ. ಮತ್ತು $AC = 4.5$ ಸೆ.ಮೀ. ಇರುವಂತೆ ತ್ರಿಭುಜ ABC ಯನ್ನು ರಚಿಸಿ, ನಂತರ ಮತ್ತೊಂದು ತ್ರಿಭುಜವನ್ನು ಅದರ ಬಾಹುಗಳು ತ್ರಿಭುಜ ABC ಯ ಅನುರೂಪ ಬಾಹುಗಳ $\frac{4}{3}$ ರಷ್ಟಿರುವಂತೆ ರಚಿಸಿ. 



33. $ABCD$ ಆಯತದ ಉದ್ದ 20 ಸೆ.ಮೀ. ಮತ್ತು ಅಗಲ 10 ಸೆ.ಮೀ. $OAPB$ ಯು $10\sqrt{2}$ ಸೆ.ಮೀ. ತ್ರಿಜ್ಯವುಳ್ಳ ವೃತ್ತದ ತ್ರಿಜ್ಯಾಂತರ ಖಂಡವಾಗಿದೆ. ಛಾಯೆಗೊಳಿಸಿದ ಭಾಗದ ವಿಸ್ತೀರ್ಣವನ್ನು ಕಂಡುಹಿಡಿಯಿರಿ. [$\pi = 3.14$ ಎಂದು ಪರಿಗಣಿಸಿ]



ಲೋಹದ ತಂತಿಯ ಅಂಚುಗಳ ನಡುವೆ ಬಟ್ಟೆಯನ್ನು ಇಟ್ಟು ತಯಾರಿಸಲಾದ ಕೈ ಬೀಸಣಿಗೆಯು ಚಿತ್ರದಲ್ಲಿ ತೋರಿಸಿದಂತೆ ವೃತ್ತದ ತ್ರಿಜ್ಯಾಂತರ ಖಂಡದ ಆಕಾರದಲ್ಲಿದ್ದು ಅದರ ತ್ರಿಜ್ಯ 21 ಸೆ.ಮೀ. ಮತ್ತು ಕೋನ 120° ಆಗಿದೆ. ಬೀಸಣಿಗೆಗೆ ಉಪಯೋಗಿಸಿರುವ ಬಟ್ಟೆಯ ವಿಸ್ತೀರ್ಣ ಮತ್ತು ಲೋಹದ ತಂತಿಯ ಉದ್ದವನ್ನು ಕಂಡುಹಿಡಿಯಿರಿ.



V. ಈ ಕೆಳಗಿನ ಪ್ರಶ್ನೆಗಳಿಗೆ ಉತ್ತರಿಸಿ :

$4 \times 4 = 16$

34. ಕೊಟ್ಟಿರುವ ರೇಖಾತ್ಮಕ ಸಮೀಕರಣಗಳ ಜೋಡಿಗೆ, ನಕ್ಷೆಯ ವಿಧಾನದಿಂದ ಪರಿಹಾರವನ್ನು ಕಂಡುಹಿಡಿಯಿರಿ :

$$x + y = 7$$

$$3x - y = 1$$



35. ಒಂದು ಸಮಾಂತರ ಶ್ರೇಣಿಯಲ್ಲಿ 5 ಪದಗಳಿದ್ದು ಅವುಗಳ ಮೊತ್ತ 55 ಮತ್ತು ಶ್ರೇಣಿಯ ನಾಲ್ಕನೇ ಪದವು ಮೊದಲೆರಡು ಪದಗಳ ಮೊತ್ತಕ್ಕಿಂತ 5 ಹೆಚ್ಚಾಗಿದೆ. ಸಮಾಂತರ ಶ್ರೇಣಿಯ ಪದಗಳನ್ನು ಕಂಡುಹಿಡಿಯಿರಿ.

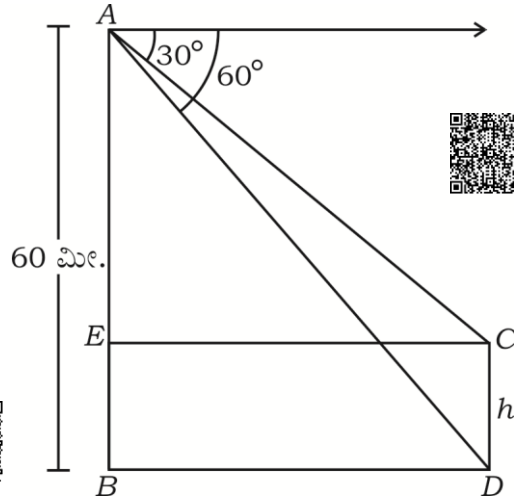


ಅಥವಾ

- ಒಂದು ಸಮಾಂತರ ಶ್ರೇಣಿಯಲ್ಲಿ 6 ನೇ ಪದವು 3 ನೇ ಪದದ ಎರಡರಷ್ಟಕ್ಕಿಂತ ಒಂದು ಹೆಚ್ಚಾಗಿದೆ. 4 ನೇ ಮತ್ತು 5 ನೇ ಪದಗಳ ಮೊತ್ತವು 2 ನೇ ಪದದ ಐದರಷ್ಟಿದೆ. ಈ ಸಮಾಂತರ ಶ್ರೇಣಿಯ 10 ನೇ ಪದವನ್ನು ಕಂಡುಹಿಡಿಯಿರಿ.



36. ಒಂದು ಗೋಪುರ ಮತ್ತು ಕಂಬ ಒಂದೇ ಸಮತಟ್ಟಾದ ನೆಲದ ಮೇಲೆ ನೇರವಾಗಿ ನಿಂತಿವೆ. 60 ಮೀ. ಎತ್ತರದ ಗೋಪುರದ ಮೇಲಿನಿಂದ ಕಂಬದ ಮೇಲ್ತುದಿ ಮತ್ತು ಅದರ ಪಾದಗಳನ್ನು ನೋಡಿದಾಗ ಉಂಟಾಗುವ ಅವನತ ಕೋನಗಳು ಕ್ರಮವಾಗಿ 30° ಮತ್ತು 60° ಆಗಿದೆ. ಆ ಕಂಬದ ಎತ್ತರವನ್ನು ಕಂಡುಹಿಡಿಯಿರಿ.



37. ಮೇಲ್ಭಾಗದಲ್ಲಿ ತೆರೆದಿರುವ ಒಂದು ಪಾತ್ರೆಯು ಶಂಕುವಿನ ಭಿನ್ನಕದ ಆಕಾರದಲ್ಲಿ ಇದೆ. ಶಂಕುವಿನ ಭಿನ್ನಕದ ಎತ್ತರ 16 ಸೆ.ಮೀ. ಅದರ ಕೆಳಭಾಗದ ಮತ್ತು ಮೇಲ್ಭಾಗದ ತ್ರಿಜ್ಯಗಳು 8 ಸೆ.ಮೀ. ಮತ್ತು 20 ಸೆ.ಮೀ. ಕ್ರಮವಾಗಿ ಇದೆ. ಈ ಪಾತ್ರೆಯನ್ನು ಹಾಲಿನಿಂದ ಸಂಪೂರ್ಣವಾಗಿ ತುಂಬಿಸಲು, 1 ಲೀಟರ್ ಹಾಲಿನ ಬೆಲೆಯು ರೂ. 20 ನಂತೆ, ಹಾಲನ್ನು ಕೊಳ್ಳಲು ಎಷ್ಟು ಹಣ ಬೇಕು ಎಂದು ಕಂಡುಹಿಡಿಯಿರಿ. [$\pi = 3.14$ ಎಂದು ಪರಿಗಣಿಸಿ]



VI. ಈ ಕೆಳಗಿನ ಪ್ರಶ್ನೆಗೆ ಉತ್ತರಿಸಿ :



1 × 5 = 5



38. ಪೈಥಾಗೋರಸ್ ಪ್ರಮೇಯವನ್ನು ನಿರೂಪಿಸಿ ಮತ್ತು ಸಾಧಿಸಿ.



=====



